


## ① Shear Stresses


إذا تعرض جسر Beam إلى قوى خارجية تُمارد أن  
تغير من خواصه فتظهر إجهادات داخلية في المادة  
المكونة من الجسر لتقاوم الإجهادات، فمثلاً:



- أن هذا الجسر يمكن أن يكون مصنوع من الحديد أو الخشب أو البلاستيك  
أو أي مادة أخرى.

- أن المقطع العرضي لهذا الجسر يمكن أن يكون بأي شكل من  
الشكال T O I Δ □  
أو أي شكل آخر

لنفترض أن لدينا جسر Beam مصنوع من الخشب وهو  
عبارة عن مجموعة من القطع الخشبية كما في الشكل التالي  
ملتصقة مع بعضها البعض بواسطة مادة لاصقة مثل  
الغراء.



## (2) Shear stresses

منه لتسليط قوة مقدارها  $P$  على القطعة  $D$   
منها لك احتمالين :-

① الاحتمال الأول :- اذا كانت المادة الاصلية قوية جداً  
بين القطعة  $D$  والقطعة  $C$  و  $E$  ولا يمكن ان تنفصل  
القطعة  $D$  عن ال  $Beam$  ففي هذه الحالة نحاول  
القوة  $P$  ان تشق الجسر ( bent ) ونقول  
بتطبيق موازين ال  $Bending stresses$  ونسما  
 $flexural$  لسم وبعد موت آخرى غير  $P$


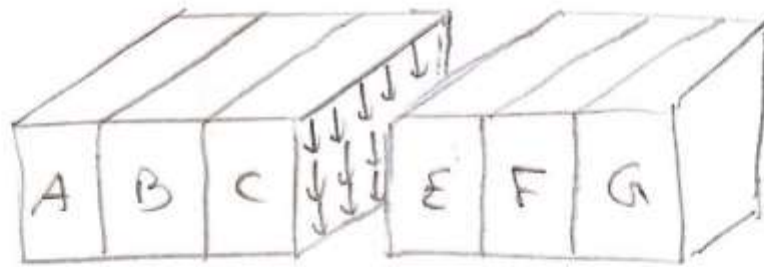
$$\sigma = \frac{Mc}{I}$$

② الاحتمال الثاني :- اذا كانت القطعة  $D$  غير صلبة  
كفاية بحيث تعمل القوة  $P$  موت تشقق القطعة  
 $D$  فقط ويحصل ما يسمى  $Punching$  وهو لسوء من  
القطعة  $D$  فقط وحساب الاجهاد على القطعة  $D$  هو :-

$$\sigma = \frac{P}{A}$$

### ③ Shear stresses

④ الحالة الثالثة - إذا كانت المادة الاصقة غير متوية  
 شئ كافي بين D ولا بين C و E فسوف نحاول  
 القطع D ان تنصل عن الجسر وهذا ما يسمى ان  
 Shear stresses وهو موضوع صيغتنا




$\bar{V}$  (shear force)  
 يتم حساب من رسم  
 ال shear diagram

- وصي نوضح الكذ، تخيل انك تمسك مجموعة من اللب  
 وتضغط عليها من الجانب بقوة بحيث لا تسقط اللب  
 فانما قام منتهى آخر وسط قوة من الوصل فممكن ان  
 تطبق الحالات الثلاثة السابقة.

## ٤) Shear stresses

ولأننا نحيل ان هناك جبر مكون من حموية من القطع النسبية وكذلك ماصوتة بالطول مع بعضه وتتم تليطهم علىه كما في الشكل التالي :-



مؤف بمبادل الحيسر ان ينشئي والقطع النسبية الطولية يحصل منها على (Stretch) مثل دبلات سيارات المحل بيك أب (Pick up) وهنا تحصل اجهادات قص Shear بين الالواح الطولية يسبب ال Bending

مقاومة ال Shear stress

$$\tau = \frac{V Q}{I b}$$

$$Q = A \cdot y$$

## ⑤ Shear stresses

$\tau$  = shear stress :- MPa, N/mm<sup>2</sup>, Psi

$V$  = shear force :- N, kN, P

$Q$  = static moment or first moment of area (mm<sup>3</sup>, m<sup>3</sup>, in<sup>3</sup>, ft<sup>3</sup>)

$I$  = moment of Inertia of the entire section about the neutral axis :- mm<sup>4</sup>, in<sup>4</sup>

$b$  :- width of the cross section

للجزء المطلوب حساب القس له وحسب البقعة المطلوبة.

$A$  :- shaded Area mm<sup>2</sup>, m<sup>2</sup>, in<sup>2</sup> الجزء المظلل

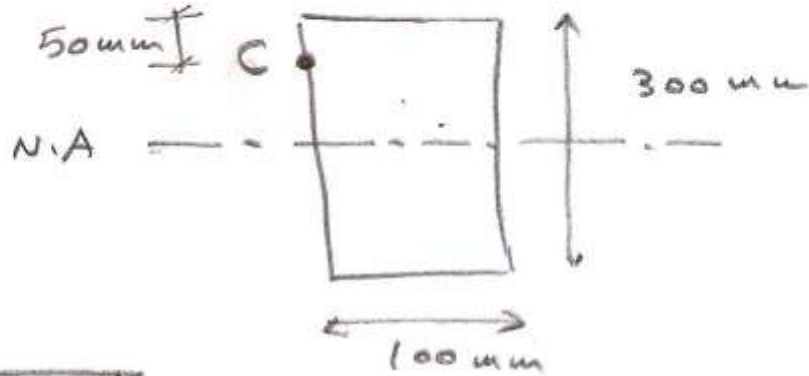
$y$  :- The distance between the centroid of the shaded Area and the neutral axis ; mm, m, in, ft

المسافة بين مركز المنطقة المظلمة ومركز المقطع الكلي -

ملاحظة :- ان قيمة  $\tau$  (قوة القس) ليس لها علاقة بنوعية مادة ال Beam سوار كان صلب ام شبه او غيره. وليس لها علاقة لشكل المقطع العرضي لل Beam سوار كان دائري او مربع او مستطيل او T او I او اي شكل آخر وهي اما تتلخص بالسؤال او يتم حسابها من ال shear diagram

## ⑥ Shear Stresses

Example :- Find  $Q$  at point C

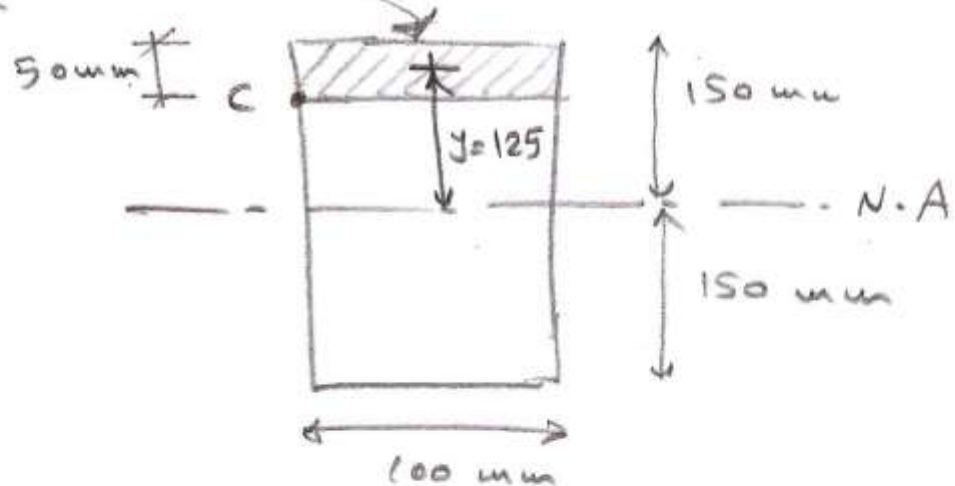


$$Q = A * y$$

خطوات الحل

- ١- نعمل خط انحنى من نقطة C موازي الى اليمين الى الـ N.A
- ٢- نفضل المساحة من اعلى المقطع الى نقطة C، وهي تمثل قبة A في المعادلة
- ٣- كسب قبة y وهي تمثل المسافة من مركز المساحة A الى خط الـ N.A

Shaded Area



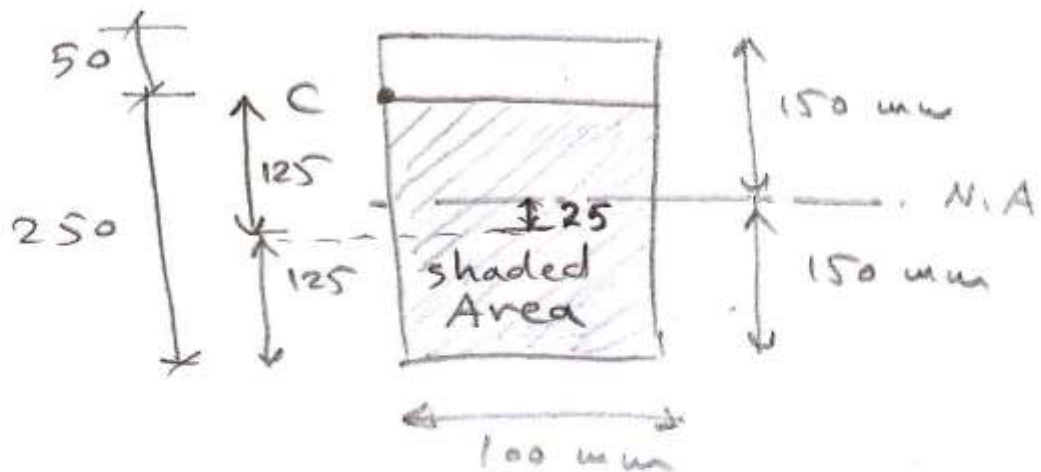
## (7) Shear stresses

$$A = 100 \text{ mm} \times 50 \text{ mm} = 5000 \text{ mm}^2$$

$$y = 125 \text{ mm}$$

$$\therefore Q = 5000 \text{ mm}^2 \times 125 \text{ mm} = 625,000 \text{ mm}^3$$

ويمكن حل السؤال بطريقة أخرى وهو أفضل المطابقة الأخرى  
وحساب قيمة  $Q$  له وكما يلي :-



$$A = 100 \text{ mm} \times 250 \text{ mm} = 25 \times 10^3 \text{ mm}^2$$

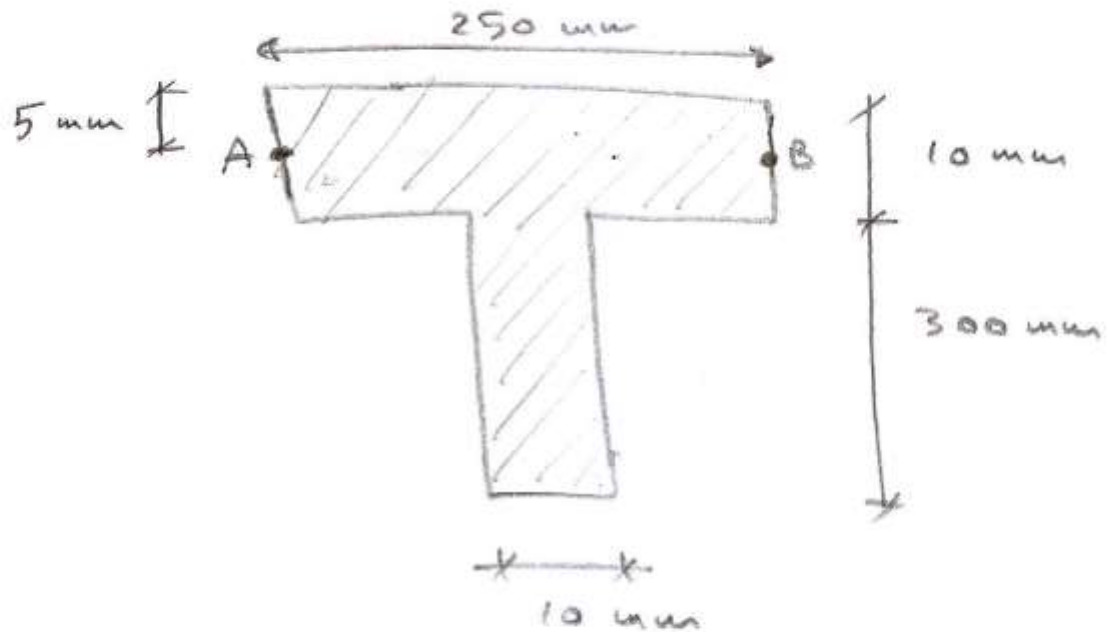
$$y = 25 \text{ mm}$$

$$Q = 25 \times 10^3 \text{ mm}^2 \times 25 \text{ mm} = 625,000 \text{ mm}^3$$

وهو نفس الرقم السابق وهذا دليل بان قيمة  $Q$  هي  
نفسه الموضحة على القطعة الطولية وعلى القطعة السفلية  
بخلاف النظر من شكل المقطع العرضي -

⑧ Shear stresses

Example: Find  $Q$  at points A and B?



خطوات الحل :-

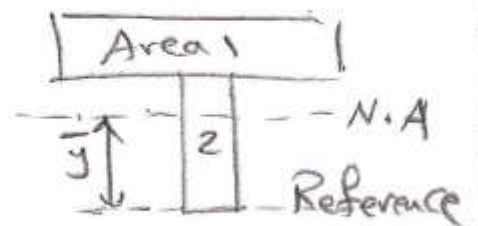
١- الشكل غير متناظر حول ال X-axis لذلك يجب ان نستخرج قيمة  $\bar{y}$  من قاعدة الشكل من ال N.A للمقطع الكلي حسب

نظير القانون التالي :- 
$$\bar{y} = \frac{\sum A \cdot y}{\sum A}$$

٢- نمد خط افقي بين نقطة A و B موازي ال N.A

٣- حسب قيمة Q اما للمساحة العلوية فوق الخط AB او للمساحة السفلية تحت الخط AB ونأخذ ايهما اسهل

Shape	Area	y	A*y
①	$250 \times 10 = 2500$	305	762,500
②	$300 \times 10 = 3000$	150	450,000



$\sum A = 5500$

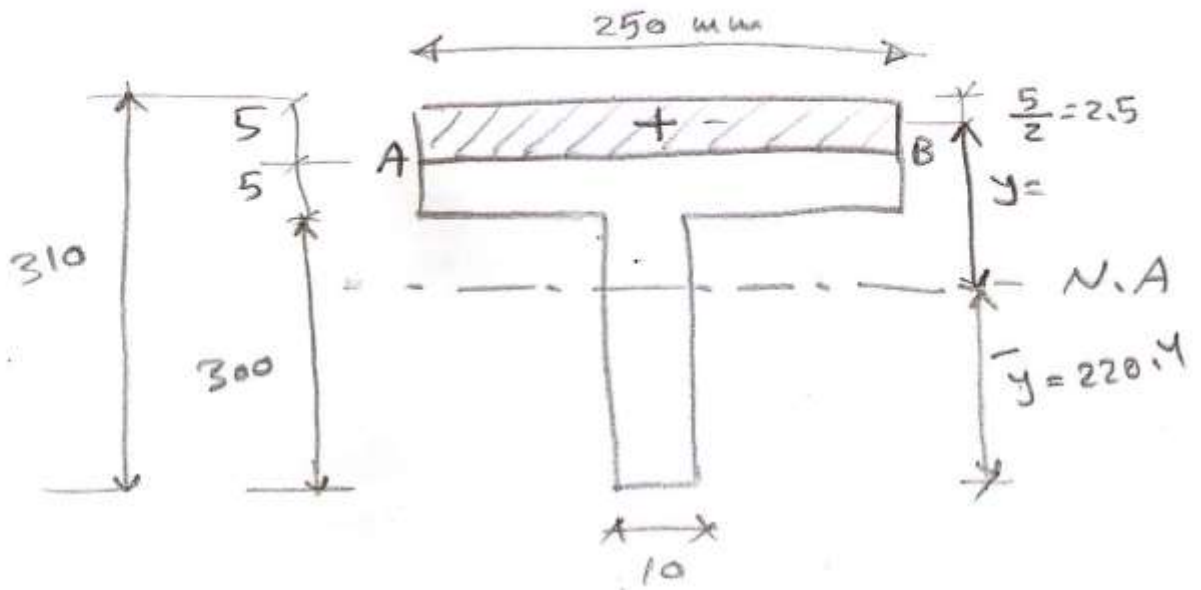
$\sum A \cdot y = 1,212,500$

$\bar{y} = 220.4$



9

shear stresses



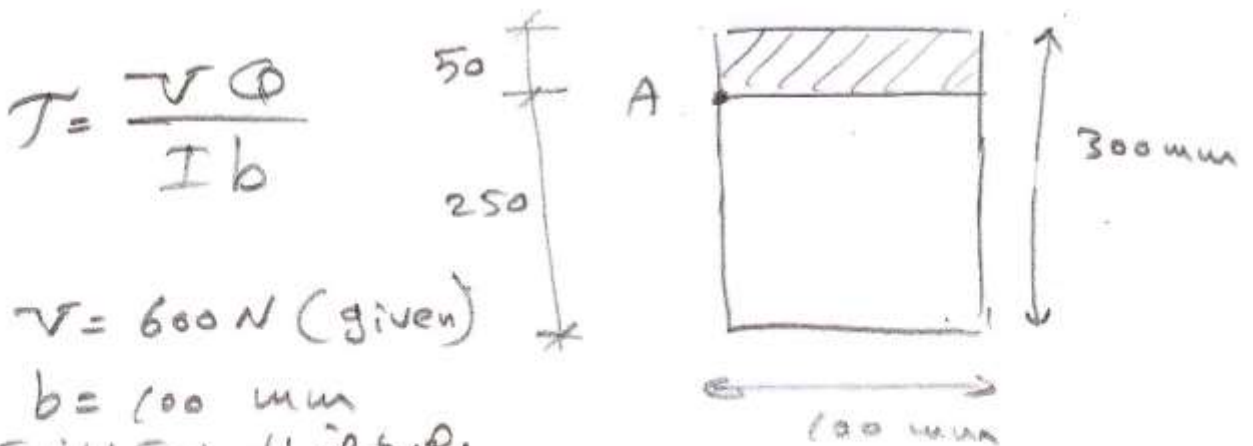
A = shaded Area ( المنطقة المظلمة )

$$A = 250 \text{ mm} \times 5 \text{ mm} = 1,250 \text{ mm}^2$$

$$y = 310 - 220.4 - 2.5 = 87.1 \text{ mm}$$

$$\therefore Q = 1,250 \text{ mm}^2 \times 87.1 \text{ mm} = 108,875 \text{ mm}^3$$

Example find shear stress @ point A for the cross section given  $V = 600 \text{ N}$



$$\tau = \frac{VQ}{Ib}$$

$$V = 600 \text{ N (given)}$$

$$b = 100 \text{ mm}$$

وهو عرض المنطقة المظلمة  
المطلوب حساب الـ  $\tau$

(10)

Shear stresses

$$I = \frac{bh^3}{12} = \frac{100 * (300)^3}{12} = 225 * 10^6 \text{ mm}^4$$

(عزق العصور الذاتي للشكل الذي للقطع وليس للمساحة المائلة فقط)

$$Q = \text{المساحة من مركز المساحة المائلة} + \text{المساحة المائلة} * \text{المسافة من مركز الشكل إلى N.A}$$

$$A = 100 * 50 = 5000 \text{ mm}^2$$

$$y = 125 \text{ mm}$$

$$Q = 625,000 \text{ mm}^3$$

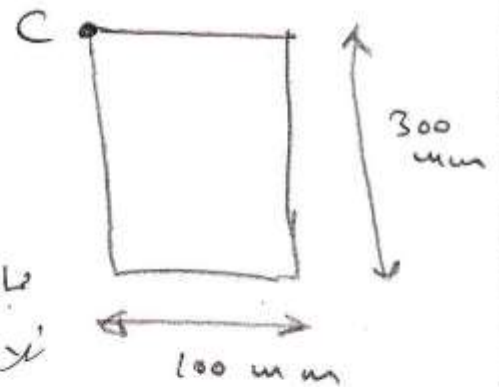
$$T = \frac{600 \text{ N} * 625,000 \text{ mm}^3}{225 * 10^6 \text{ mm}^4 * 100 \text{ mm}} = 0.016 \text{ MPa}$$

Example Find  $T$  at Point C if  $V = 600 \text{ N}$

الحل

$$T = \frac{VQ}{Ib}$$

بما ان  $Q =$  مساحة المنطقة المائلة \*  $y$   
 لا يوجد  $y$  في نقطة المائل  
 ومقدارها = Zero



$$\therefore Q = \text{Zero}$$

$$\therefore T = \text{Zero}$$

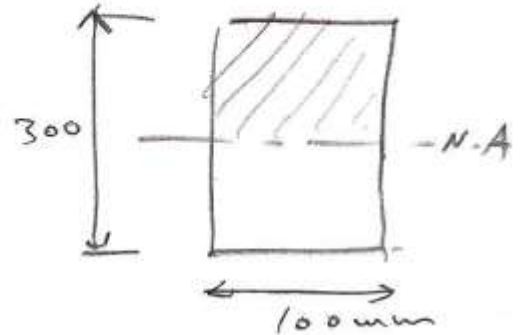
ملاحظة عند النهايات العليا والسفلى للقطع فان قيمة  
 المردادات = Zero وليس ال Bending

(11) Shear StressesExample 2 Find the max shear stress

$$\therefore V = 600 \text{ N}$$

Solution

عندما يطبق بالشوَال ال  $\tau_{\text{max}}$  فان مساحة المنطقة تكون بين ال  $N.A$  والجزء العلوي او ال  $N.A$  والجزء السفلي ايها اسهل بالحل . وفي هذا الشوَال نستخدم الصيغة .



$$V = 600 \text{ N (given)}$$

المرفوض في النقطة المطلوب حساب ابعاد القوس في  $b$ 

$$b = 100 \text{ mm}$$

$$I = \frac{bh^3}{12} = \frac{100 \times (300)^3}{12} = 225 \times 10^6 \text{ mm}^4 \quad \text{للشكل الكلي للقطع}$$

 $A =$  مساحة المنطقة المضيئة

$$A = 100 \text{ mm} \times 150 \text{ mm} = 15 \times 10^3 \text{ mm}^2$$

 $y =$  المسافة من مركز المساحة المضيئة ال  $N.A$ 

$$y = 75 \text{ mm}$$

$$Q = A \times y$$

$$Q = 15 \times 10^3 \text{ mm}^2 \times 75 \text{ mm} = 1,125 \times 10^3 \text{ mm}^3$$

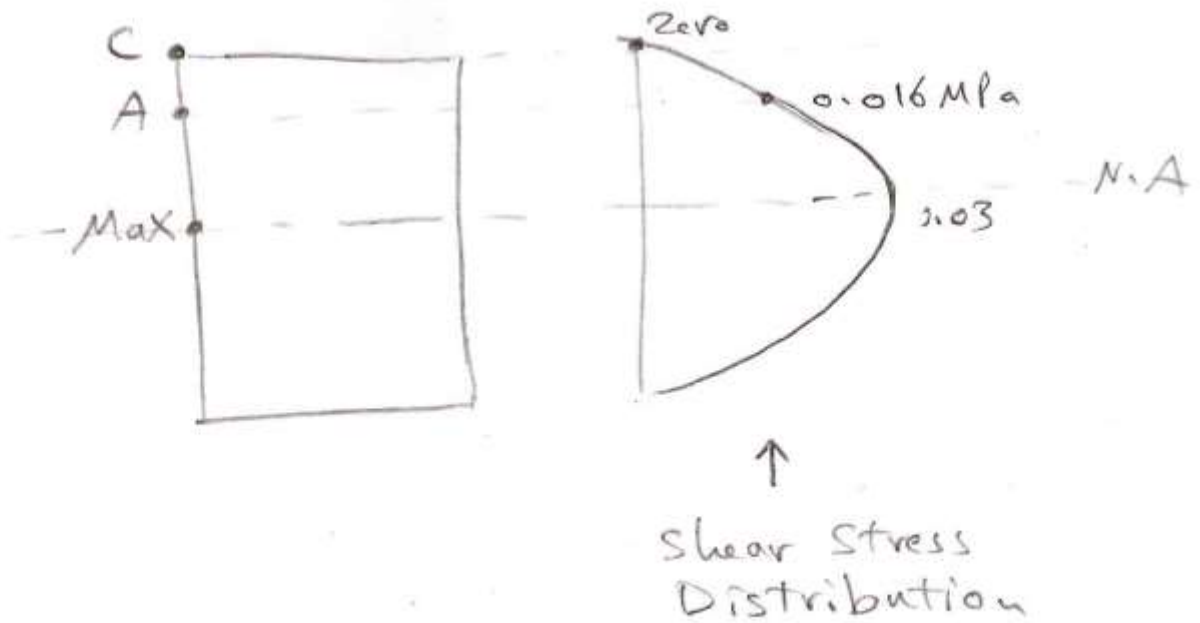
$$\tau = \frac{VQ}{Ib}$$

$$\tau = \frac{600 \text{ N} \times 1,125 \times 10^3 \text{ mm}^3}{225 \times 10^6 \text{ mm}^4 \times 100 \text{ mm}} = 0.03 \text{ MPa (N/mm}^2)$$

(12) Shear Stresses

Example 2 For the cross section shown Draw shear stress Distribution if:-

- 1-  $\tau$  at point C = zero
- 2- Max  $\tau = 0.03 \text{ MPa}$
- 3-  $\tau$  at point A =  $0.016 \text{ MPa}$



ملاحظة لأن المقطع متناظر حول ال N.A لذلك  
 فإن ال Shear stress Distribution يكون للجزء العلوي فوق ال N.A هو نفس تحت ال N.A

(13) Shear Stresses

ملاحظات

- ١- قيمة  $V$  اما ان تظهر بالسؤال او تستخرج من رسم ال Shear stress من بعض الاسئلة يكون المطلوب هو قيمة الحمل  $w$  او  $P$  على ال Beam لانك لا تستطيع ان تستخرج  $V$  ، سوف نضع قيمة  $V$  بديلا لـ  $w$  او  $P$  او اي قيمة اخرى .
- ٢- ان قيمة  $I$  تكون لكل المقطع للمقطع Whole section وليس للاقطة بين محاوره اخرى .
- ٣- اذا كان شكل المقطع غير متناظر مع ال N.A فيجب استخراج قيمة  $Q$  وهي المسافة من ال N.A الى اقل نقطة بالمقطع .
- ٤- ان قيمة  $Q$  تتحدد بطيب السؤال وحسب موقع النقطة المطلوب حساب الاجهاد فيه . لذلك فان قيمة  $Q$  تساوي صفر في اعلى وارطأ نقطة من المقطع ، وان اعلى قيمة ال  $Q$  تكون في ال N.A .

- ٥- ان قيمة  $I$  تتأثر في مقاطع  $I$  ،  $T$  ،  $\square$  وخاصة عندما يطبق مقدار اجهاد القص في منطقة الربط بين ال Web و ال Flange فاذا طيب مقدار  $I$  في منطقة الربط ال Flange من 200 و اذا طيب مقدار  $I$  في منطقة الربط ال Web من 20 .

