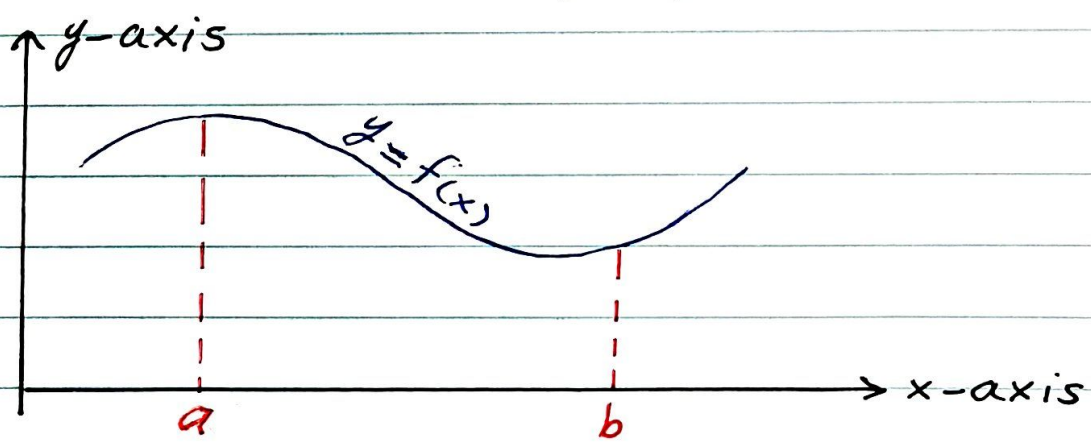


# CH6: Numerical Integration

## (Integral Approximation)

Numerical integration (integral approximation) is used to calculate a numerical approximation for the value of the definite integral  $I = \int_a^b f(x) dx$ , which is the area under the curve  $f(x)$  as it is shown in the following figure



and there are two reasons to use the numerical integration instead of using the analytical methods which are:

- 1) When we don't have an explicit function  $f$  of  $x$ , but we have only a given data of  $n+1$  points  $(x_0, y_0), (x_1, y_1), \dots, (x_n, y_n)$  lies on the curve

$y = f(x)$  (which means that  $y_i = f(x_i)$ ) and we want to find the approximate area  $I = \int_a^b f(x) dx$  under the curve

$y = f(x)$  that pass through the given points and between the vertical lines  $x = a$  and  $x = b$ , without knowing the exact formula of  $f(x)$ .

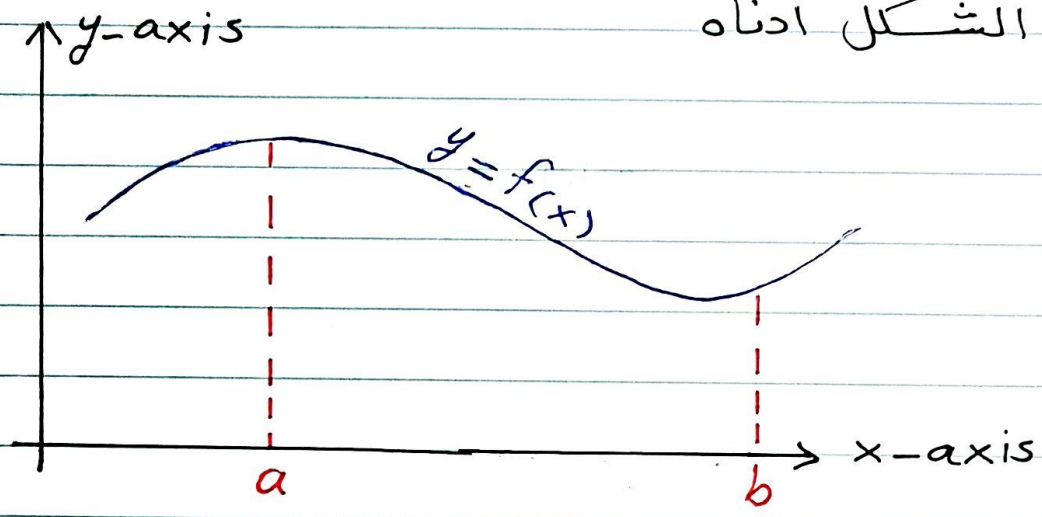
2) When the formula for the integrand  $f(x)$  is known, but it may be difficult or impossible to find the value of  $\int f(x) dx$  as an elementary function of  $x$ .

Each one of the above reasons required us to use the numerical integration.

There are many methods and rules for the numerical integration, but we will discuss only two of them in this chapter, which are the trapezoidal rule and the Simpson's rule.

التكامل العددي يستخدم لأحساب التقريب العددي  
لقيمة التكامل المحدود  $I = \int_a^b f(x) dx$  والذي يمثل

المساحة الواقعة تحت المنحنى  $f(x)$  بين  
المستقيمين العموديين  $x=a$  و  $x=b$  كما مبين  
في الشكل أدناه



وهناك سببان كل واحد منهما يدعونا لأستخدام  
التكامل العددي بدلاً من استخدام الطرق التحليلية  
المعارف عليها أو قوانين التكامل، وهذين السببين  
هما:

- (1) عندما لا يكون لدينا صيغة صريحة للدالة  $f$  للمتغير  $x$   
وإنما يتوفر لدينا  $n+1$  من النقاط للمعلومة  
الواقعة على المنحنى  $y=f(x)$  والنقاط هي  
 $(x_0, y_0)$  و  $(x_1, y_1)$  و ... و  $(x_n, y_n)$  (أي أن  
 $y_i = f(x_i)$ ) وفي نفس الوقت نريد إيجاد القيمة  
التقريبية للمساحة الواقعة تحت المنحنى  $y=f(x)$   
الذي يمر من النقاط المعطاة والمحصورة بين  
المستقيمين العموديين  $x=a$  و  $x=b$  من دون أن  
نعرف الصيغة الرياضية للدالة  $f(x)$ .

(2) عندما تكون الصيغة الرياضية للدالة  $f(x)$  معلومة ولكن هنالك صعوبة أو استقالة لكتابة قيمة  $\int f(x) dx$  بصيغة دالة للمتغير  $x$ .

هنالك عدة طرق وقواعد للتكامل العددي ولكننا سنناقش نوعين من هذه القواعد فقط وهما قاعدة شبه المنحرف وقاعدة ~~س~~ ~~م~~ ~~س~~ ~~و~~ ~~ن~~.

### S1: Trapezoidal Rule:

1) When  $f(x)$  is not known and we have only  $n+1$  known points on the curve  $y=f(x)$  which are  $(x_0, y_0), (x_1, y_1), \dots, (x_n, y_n)$ , satisfying that  $x_{i+1} - x_i = h$ ,  $i=0, 1, \dots, n-1$  where  $h$  is a fixed number, then

$$\int_{x_0}^{x_n} f(x) dx = \frac{h}{2} [y_0 + y_n + 2(y_1 + y_2 + \dots + y_{n-1})]$$

Example: By using the trapezoidal rule, find the value of  $\int_2^3 f(x) dx$

where the graph of  $y=f(x)$  pass through the points  $(2, 9), (2.2, 10.04), (2.4, 11.16), (2.6, 12.36), (2.8, 13.64), (3, 15)$ .

Solution:

We have the following data table :

$x_i$	$y_i = f(x_i)$		
$x_0$	2	9	$y_0$
$x_1$	2.2	10.04	$y_1$
$x_2$	2.4	11.16	$y_2$
$x_3$	2.6	12.36	$y_3$
$x_4$	2.8	13.64	$y_4$
$x_5$	3	15	$y_5$

$n = \text{عدد النقاط} - 1$   
 $= 6 - 1$   
 $= 5$

and we have  $h = x_{i+1} - x_i = 0.2$  . Then

$$I = \int_2^3 f(x) dx \approx \frac{h}{2} [y_0 + y_5 + 2(y_1 + y_2 + y_3 + y_4)]$$

$$= \frac{0.2}{2} [9 + 15 + 2(10.04 + 11.16 + 12.36 + 13.64)]$$

$$= 0.1 * 118.4 = 11.84 .$$

2) When  $f(x)$  is known and defined on the interval  $[a, b]$  and we want to evaluate an approximate value of  $I = \int_a^b f(x) dx$

by using the trapezoidal rule then we will follow the following steps:

1. Divide the interval  $[a, b]$  into  $n$  equal

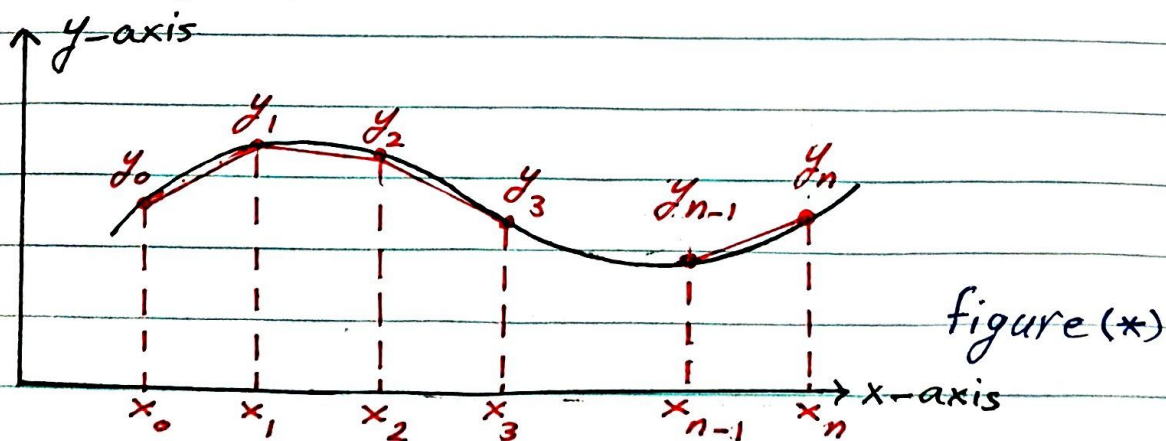
parts each one of these parts of length  $h = \frac{b-a}{n}$ . Remember that when ever  $n$  become bigger the approximation of the integration  $I$  becomes more accurate.

2. Find the values of  $y_i = f(x_i)$  for each  $i = 0, 1, \dots, n$ .

3. Construct the table of the data that you get as follows:

$x_i$	$y_i = f(x_i)$
$a = x_0$	$y_0$
$x_1$	$y_1$
$x_2$	$y_2$
$\vdots$	$\vdots$
$b = x_n$	$y_n$

4. Find the sum of the  $n$  trapezoidals that you get as it is shown in the following figure (\*):



The sum of the areas of the  $n$  trapezoidals is the approximation of  $I$ , and thus we have

$$I = \int_a^b f(x) dx \approx \frac{h}{2} [y_0 + y_n + 2(y_1 + y_2 + \dots + y_{n-1})]$$

We should use the above formula to find the approximation of the integral

$$I = \int_a^b f(x) dx.$$

عندما تكون الدالة  $f(x)$  معلومة ومعرفه على الفترة  $[a, b]$  ونريد امتساب قيمة تقريبيه للتكامل

$$I = \int_a^b f(x) dx \text{ باستخدام قاعدة شبه المنحرف}$$

فعلينا اتباع الخطوات التالية:  
 (1) تقسيم الفترة  $[a, b]$  إلى  $n$  من الأجزاء المتساوية كل جزء منها له طول يساوي  $h = \frac{b-a}{n}$ . علينا أن نتذكر بأنه كلما تكون  $n$  أكبر كلما يكون التقريب دقيقاً أكثر.

(2) جد قيم  $y_i = f(x_i)$  لكل  $i = 0, 1, \dots, n$ .

(3) أنشئ جدولاً للبيانات التي حصلت عليها وكما يلي:

$x_i$	$y_i = f(x_i)$
$a = x_0$	$y_0$
$x_1$	$y_1$
$x_2$	$y_2$
$\vdots$	$\vdots$
$b = x_n$	$y_n$

(4) جد مجموع مساحات اشباه المتعرجا التي عددها  $n$  التي حصلت عليها كما هو موضح في الشكل (\*) حيث أن مجموع المساحات هذا يكون التقريب لقيمة التكامل  $I$ . لذا فإننا نحصل على ما يلي:

$$I = \int_a^b f(x) dx \approx \frac{h}{2} [y_0 + y_n + 2(y_1 + y_2 + \dots + y_{n-1})]$$

وأن الصيغة الرياضية أعلاه هي التي يجب علينا استخدامها لإيجاد القيمة التقريبية للتكامل  $I = \int_a^b f(x) dx$ .

Example : By using the trapezoidal rule, find the value of  $\int_2^4 (x^2 + 2x + 1) dx$ , when  $n = 5$ .

Solution :

Divide the interval to five equal parts to get  $h = \frac{4-2}{5} = \frac{2}{5} = 0.4$ , which gives the following table:



$x_i$	$y_i = f(x_i) = x_i^2 + 2x_i + 1$
2	9
2.4	11.56
2.8	14.44
3.2	17.64
3.6	21.16
4	25

$$\text{Then } I = \int_2^4 f(x) dx \approx \frac{h}{2} [y_0 + y_5 + 2(y_1 + y_2 + y_3 + y_4)]$$

$$= \frac{0.4}{2} [9 + 25 + 2(11.56 + 14.44 + 17.64 + 21.16)]$$

$$= 0.2 * (34 + 129.6) = 0.2 * 163.6 = 32.72$$

### Exercise:

1) By using the trapezoidal rule, find the value of  $\int_1^3 f(x) dx$  where the graph

of  $y = f(x)$  pass through the points  
 $(1, 4.2)$ ,  $(1.5, 5.95)$ ,  $(2, 8.2)$ ,  $(2.5, 10.95)$ ,  
 $(3, 14.2)$ .

2) By using the trapezoidal rule, find the value of  $\int_2^5 (x^3 + 3x - 2) dx$ , when  $n = 6$ .